

资料分析

一、根据以下资料，回答 1-5题。

经初步核算，2009 年上半年我国国内生产总值同比增长 7.1%，比一季度加快 1.0 个百分点。其中，第一产业增加值 12025亿元，增长 3.8%；第二产业增加值 70070亿元，增长 6.6%；第三产业增加值 57767亿元，增长 8.3%。上半年，全社会固定资产投资 91321亿元，同比增长 33.5%，增速比上年同期加快 7.2个百分点。其中，城镇固定资产投资 78098亿元，增长 33.6%，加快 6.8 个百分点；农村固定资产投资 13223亿元，增长 32.7%，加快 9.5 个百分点。上半年，社会消费品零售总额 58711亿元，同比增长 15.0%。其中，城市消费品零售额 39833亿元，增长 14.4%；县及县以下消费品零售额 18878亿元，增长 16.4%。上半年，进出口总额 9461亿美元，同比下降 23.5%。其中，出口 5215亿美元，进口 4246亿美元，贸易顺差同比减少 21亿美元。上半年，城镇居民家庭人均总收入 9667元。其中，人均可支配收入 8856元，同比增长 9.8%。在城镇居民家庭人均总收入中，工资性收入 6394元，增长 11.1%；转移性收入 2273元，增长 16.0%；经营净收入 778元，增长 3.9%；财产性收入 222元，增长 9.1%。农村居民人均现金收入 2733元，增长 8.1%。其中，工资性收入 954元，增长 8.4%；家庭经营收入 1512元，增长 5.5%；财产性收入 78元，增长 9.9%；转移性收入 189元，增长 31.4%。

1.2009年上半年，我国国内生产总值为：

- A.139862亿元 B.147953亿元 C.148632亿元 D.151429亿元

2.2008年上半年，全社会固定资产投资同比增长：

- A.40.7% B.33.5% C.26.3% D.24.2%

3.2008年上半年，我国进出口贸易顺差为：

- A.1018亿美元 B.990亿美元 C.970亿美元 D.948亿美元

4.2008年上半年农村居民人均财产性收入约占农村居民人均现金收入的：

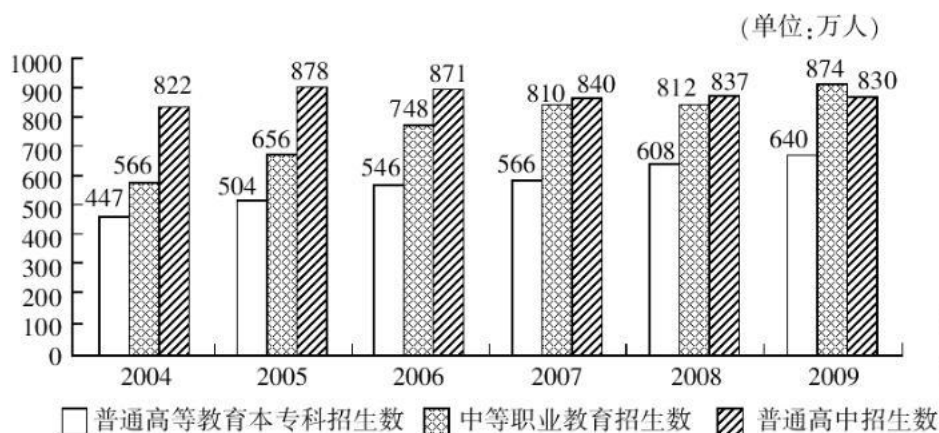
- A.2.7% B.2.8% C.2.9% D.3.0%

5.以下对 2009年上半年我国经济运行状况的表述中，不正确的一项是：

- A.固定资产投资快速增长
B.国内市场销售平稳较快增长，县及县以下增长快于城市
C.对外贸易形势乐观，进出口企稳回升
D.城乡居民收入继续增长，转移性收入增幅较大

二、根据以下资料，回答 6~10题。

2004~2009年各类教育招生数



6.2004~2009年普通高等教育本专科、中等职业教育招生数之和占图中三类教育招生总数比重最大的那一年普通高等教育本专科招生为 ()

- A.566万人 B.546万人 C.640万人 D.608万人

7.2005~2009年中等职业教育招生数增长率最小的一年是 ()

- A.2009年 B.2006年 C.2007年 D.2008年

8.按从大到小排序，中等职业教育、普通高中招生数之和最大的那一年普通高等教育本专科招生数在六年中排 ()

- A.第一位 B.第四位 C.第三位 D.第二位

9.2004~2009年普通高等教育本专科平均每年招生数和中等职业教育平均每年招生数的比值为 ()

- A.0.95 B.0.86 C.0.74 D.0.51

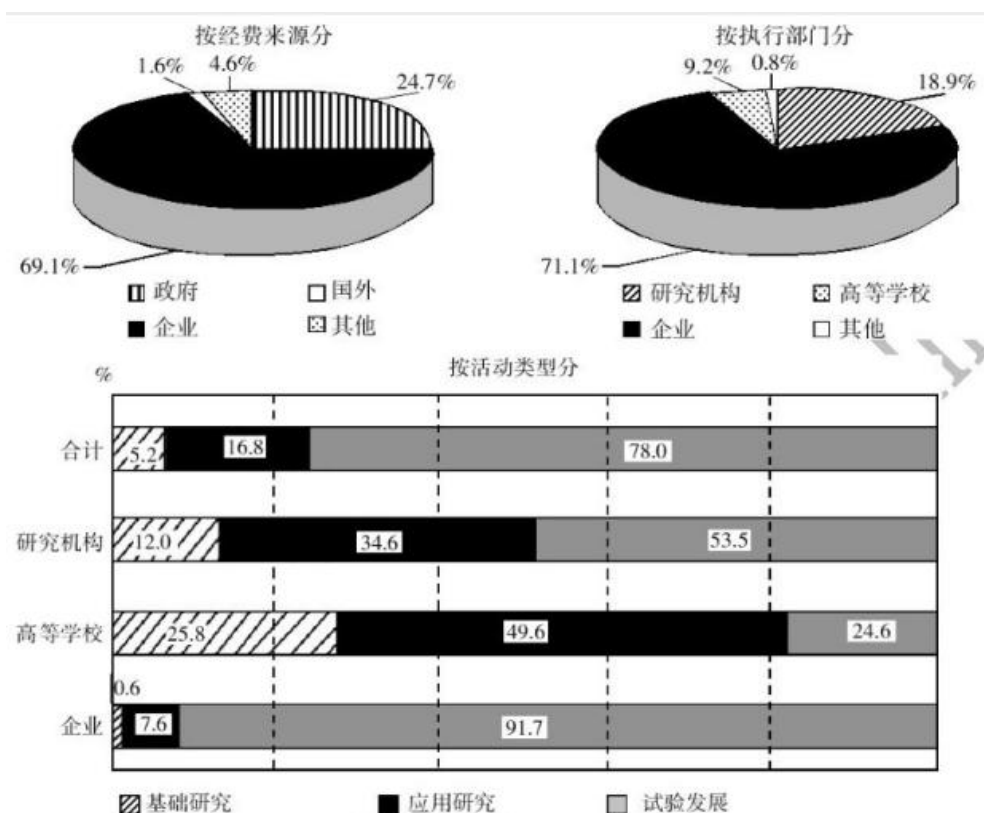
10.下列分析不正确的有 ()

- (1) 普通高等教育本专科招生数占图中三类教育招生总数的比重逐年增加。
(2) 图中三类教育招生总数增加幅度逐年减小。
(3) 2005~2009年普通高等教育本专科与中等职业教育招生数的比值逐年增加。

- A.3个 B.0个 C.1个 D.2个

三、根据以下资料，回答 11-15题。

我国某年度科学研究与试验发展经费支出分类示意图



注：我国该年度科学研究与试验发展支出总额为 3003.1亿元。

- 11.按执行部门分，该年度我国企业部分的“科学研究与试验发展经费支出”约为：
A.567.6亿元 B.2135.2亿元 C.2075.1亿元
D.2353.2亿元

- 12.按经费来源分，该年度我国企业部分的“科学研究与试验发展经费支出”约比政府部分：
A.多 44.4% B.少 44.4% C.多 1333.4亿元 D.多 1567.6亿元

- 13.该年度我国高等学校用于应用研究部分的“科学研究与试验发展经费支出”约为：
A.95.6亿元 B.137.0亿元 C.196.4亿元
D.1489.5亿元

- 14.该年度我国研究机构用于基础研究部分的“科学研究与试验发展经费支出”约为企业用于应用研究部分的：
A.1.6倍 B. $\frac{1}{30}$ C.13% D.42%

- 15.该年度我国企业的“科学研究与试验发展经费支出”中，用于应用研究的约比用于基础研究的：
A.149.5亿元 B.210.2亿元 C.135.6亿元 D.242.1亿元

四、根据以下资料，回答 16~20题。

2009 年末我国广义货币供应量余额为 60.6 万亿元，比上年末增长 27.7%，狭义货币供应量余额为 22.0 万亿元，比上年末增长 32.4%，流通中现金余额为 3.8 万亿元，比上年末增长 11.8%。

2009 年末全部金融机构本外币各项存款余额 61.2 万亿元，比上年末增加 13.2 万亿元，其中人民币各项存款余额 59.8 万亿元，增加 19.2 万亿元。全部金融机构本外币各项贷款余额 42.6 万亿元，增加 10.5 万亿元。其中人民币各项贷款余额 40.0 万亿元，增加 9.6 万亿元。

2009 年末全部金融机构人民币消费贷款余额 8.5 万亿元，增加 17978 亿元。其中，个人短期消费贷款余额 0.6 万亿元，增加 2455 亿元，个人中长期消费贷款余额 4.9 万亿元，增加 15511 亿元。

2009 年全年上市公司通过境内市场累计筹贷 6658 亿元，比上年增加 1355 亿元，其中首次公开发行 A 股 99 只，筹资 2060 亿元，增加 995 亿元，A 股再融资筹资 1591 亿元，增加 260 亿元。

2009 年全年保险公司原保险保费收入 11132 亿元，比上年增长 18.8%。其中寿险业务原保险保费收入 7457 亿元，健康险和意外伤害险原保险保费收入 804 亿元，财产险业务原保险保费收入 2376 亿元，支付各类赔款及给付 3126 亿元，其中寿险业务给付 1259 亿元，健康险和意外伤害险赔款及给付 281 亿元，财产险业务赔款 1576 亿元。

16. 2009 年末我国全部金融机构外币各项贷款余额比 2008 年末增加 ()

- A. 105000 亿元 B. 96000 亿元 C. 9800 亿元 D. 9000 亿元

17. 2009 年我国保险公司支付各类赔款及给付占其原保险保费收入的比重是 ()

- A. 28% B. 29% C. 30% D. 31%

18. 2008 年末我国流通中的现金、狭义货币供应量和广义货币供应量余额分别是 ()

- A. 3.8 万亿元、22.0 万亿元和 60.6 万亿元
B. 47.5 万亿元、16.6 万亿元和 3.4 万亿元
C. 60.6 万亿元、22.0 万亿元和 3.8 万亿元
D. 3.4 万亿元、16.6 万亿元和 47.8 万亿元

19. 2008 年年末个人中长期消费贷款余额与个人短期消费贷款余额之比是 ()

- A. 1 : 0.0958 B. 1 : 0.1029 C. 1 : 0.1056 D. 1 : 0.1125

20. 下列分析正确的有 ()

- (1) 2009 年末全部金融机构本外币存款余额增长率大于贷款余额增长率
(2) 2009 年保险公司原保险保费业务中，收入最高的险种也是赔款及给付最高的险种
(3) 2009 年首次公开发行 A 股筹资额占全年上市公司通过境内市场累计筹资的 60%

以上

- A. 0 个 B. 1 个 C. 2 个 D. 3 个

五、根据以下资料，完成 21-25题。

某年五省市国有企业主要指标对比

项 目	浙江	上海	广东	北京	山东
企业数(户)	4604	9833	8565	5029	5851
资产(亿元)	6740.9	15809.9	11961.2	8725.7	7925.1
净资产(亿元)	2561.3	6315.7	4564.0	3096.5	2525.1
国有资产总量(亿元)	1979.7	4304.5	3543.9	2371.0	1747.2
营业收入(亿元)	3500.4	6193.2	5423.9	3302.2	4364.7

21.国有企业数最多的地区是：

- A.浙江
B.上海
C.广东
D.山东

22.浙江省国有企业的“营业收入”比北京市多：

- A.158.7亿元
B.162.4亿元
C.173.6亿元
D.198.2亿元

23.广东省国有企业的“国有资产总量”比山东省多：

- A.4036.1亿元
B.3125.4亿元
C.1796.7亿元
D.1438.6亿元

24.五省市国有企业的“资产”总和为：

- A.51162.8亿元
B.51376.4亿元
C.51546.3亿元
D.51760.7亿元

25.以下说法中，不正确的一项是：

- A.五省市中，浙江省的国有企业数最少
B.上海市国有企业的“净资产”比浙江省和北京市两地国有企业的“净资产”总和还多
C.山东省国有企业的“营业收入”比广东省低，比北京市高
D.上海市国有企业的“营业收入”比浙江省的两倍还多

六、根据以下资料，回答 26-30题。

2006年末，浙江省拥有人才资源数 379.5万人，比 2005年增长 18.7%；每万人口中拥有人才资源数达 820 人，比 2005 年增长 18%。人才资源中拥有大专及以上学历人员 204.3 万人，比 2005年增长 26%；拥有高级技术职称人员 13.7万人，比 2005年增长 23.9%。

2006 年，浙江省各市、县（市、区）本级财政科技拨款为 44.6 亿元，比 2005 年增长 31%；本级财政科技拨款占本级财政支出的比例达 4.19%，比 2005年提高 0.42个百分点。财政科普活动经费拨款为 6632万元，比 2005年增长 23.2%，人均科普活动经费达 1.43元，比 2005年提高 0.25元。

2006年，全省全社会科技活动经费内部支出达 407.8亿元，比 2005年增长 26.9%，科技活动经费内部支出占地区生产总值的比例达 2.59%，比 2005年提高 0.2个百分点；其中，全社会研究与试验发展（R&D）经费支出 224亿元，比 2005年增长 37.2%，R&D经费支出占地区生产总值的比例达 1.42%，比 2005 年提高 0.2 个百分点。规模以上工业企业技术开发经费支出 328.1 亿元，比 2005 年增长 26.7%，企业技术开发经费占产品销售收入的比例由 2005年的 1.14%提高到 2006年的 1.15%。企业消化吸收经费支出占引进国外技术经费支

出的比例也由 2005年的 29%提高到 2006年的 46.7%。

26.2006年的浙江省人才资源中拥有大专及以上学历人员约占全省人才资源总数的：

- A.56.5% B.55.3% C.53.8% D.52.8%

27.2005年浙江省各市、县（市、区）本级财政科技拨款约为：

- A.34.81亿元 B.34.63亿元 D.34.05亿元
C.34.35亿元

28.从上述资料可以推出 2006年浙江省的地区生产总值约为：

- A.1.64万亿 B.1.58万亿 D.1.32万亿
C.1.41万亿

29.2006年浙江省规模以上工业企业产品销售收入约为：

- A.2.85万亿 B.2.98万亿 D.3.18万亿
C.3.12万亿

30.以下说法中，不正确的是：

- A.2005年浙江省拥有人才资源数不足 325万人
B.2006年浙江省拥有高级技术职称人员占全省人才资源总数的比例超过 3%
C.2005年浙江省每万人口中拥有人才资源数超过 685人
D.2005年浙江省全社会研究与试验发展（R&D）经费支出不足 150亿元

七、根据以下资料，回答 31~35题。

某省环境统计公报（2004-2008年）

内容	单位	2004 年	2005 年	2006 年	2007 年	2008 年
一、废水						
废水排放总量	亿吨	54.2	63.8	65.5	69.1	67.7
工业废水排放达标率	%	83.9	83.9	84.9	86.1	89.7
城镇生活污水处理率	%	35.7	40.2	45.3	50.2	55.9
二、废气						
工业废气排放总量	亿立方米	12543	13447	13584	16939	20510
烟尘排放总量	万吨	26.1	27.9	28.2	29.4	32.5
其中：工业烟尘排放量	万吨	25.2	27.1	27.3	27.3	28.2
三、工业固体废物						
产生量	万吨	2609.2	2896.2	3057.0	3852.4	4833.3
综合利用量	万吨	2312.1	2518.0	2878.2	3378.5	4184.3
综合利用率	%	80.3	76.7	84.3	84.2	85.3
四、城镇污水处理厂数量						
城镇污水处理厂数量	座	62	79	99	127	179
城镇污水处理厂处理能力	万吨/日	521.8	633.6	724.3	874.4	1092
污水处理量	万吨	139410	192356	244147	282700	361282
运行费用	万元	54069	90286	142886	155506	217727

- 31.2008年工业固体废物综合利用量大约是 2004年的 ()
A.1.7倍 B.2.0倍 C.2.3倍 D.2.6倍
- 32.与前一年相比,工业废水排放达标率增幅最大的年份是 ()
A.2005年 B.2006年 C.2007年 D.2008年
- 33.工业烟尘排放量占烟尘排放总量的比重最低的年份是 ()
A.2005年 B.2006年 C.2007年 D.2008年
- 34.根据上表,下列说法不正确的是 ()
A.工业废气排放总量较上一年增幅最大的年份是 2005年
B.工业固体废物的利用率未实现逐年上升
C.2008年城镇污水处理厂处理能力约是 2004年的两倍
D.2004-2008年,城镇生活污水处理率增长速度高于工业废水排放达标率
- 35.关于城镇污水集中处理情况,下列表述正确的是 ()
A.根据 2004-2008年间城镇污水处理厂数量的平均增速,预计 2010年将超过 200座
B.2008年污水处理的单位成本比 2007年有所降低
C.2008年城镇污水处理厂平均处理能力比 2007年有所提高
D.2004年城镇污水处理厂平均运行费用最高

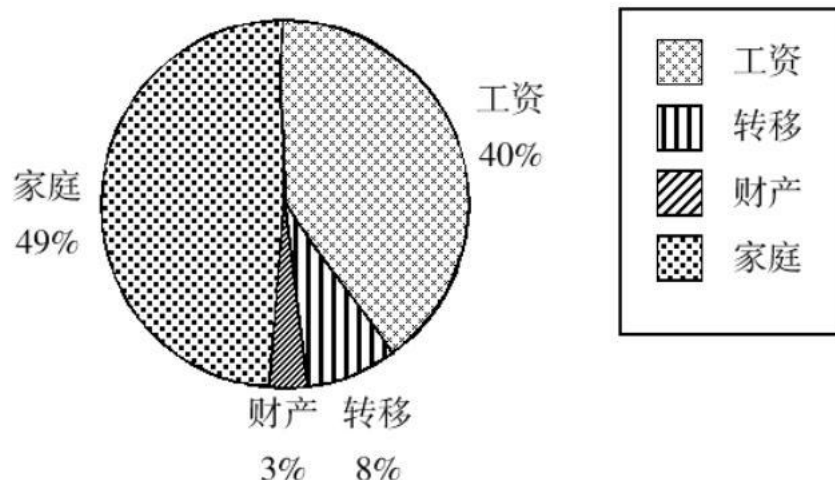
八、根据以下资料,回答 36~40题。

农村居民家庭人均纯收入结构变化

单位: 元

	1990 年	1995 年	2000 年	2005 年	2007 年	2008 年	2009 年
纯收入	668.31	1577.74	2253.42	3254.93	4140.36	4760.62	5153
工资性收入	138.8	353.7	702.3	1174.53	1596.22	1853.73	2061
家庭经营性收入	518.55	1125.79	1427.27	1844.53	2193.67	2435.56	2527
财产性收入	0	40.98	45.04	88.45	128.22	148.09	167
转移性收入	28.96	57.27	78.81	147.42	222.25	323.24	398

2009年农村居民家庭人均纯收入构成



- 36.2000-2009年，农村居民家庭人均纯收入平均每年增长（ ）
A.236.04元 B.322.18元 C.353.27元 D.474.52元
- 37.与 2008年相比，2009年农村居民家庭人均纯收入增长率为（ ）
A.6.9% B.7.6% C.8.2% D.8.8%
- 38.2009年，农村居民家庭人均纯收入构成中，增幅最小的是（ ）
A.工资性收入 B.家庭经营性收入
C.财产性收入 D.转移性收入
- 39.按照 2009年增长率计算，2010年农村居民家庭人均工资性收入将达到（ ）
A.2291.45元 B.2309.37元 C.2345.86元
D.2326.21元
- 40.由以上数据，可以推出下列哪个结论正确？
A.1990-2009年，农村居民家庭人均纯收入及各构成部分均呈递增趋势
B.1990-2009年，农村居民家庭人均纯收入呈现加速增长趋势
C.2009年，家庭经营性收入首次占比低于半数
D.1995-2009年，农村居民家庭人均纯收入构成，年均增速最快的是转移性收入